

Novembro/2015

TECNOLOGIA EM GESTÃO FINANCEIRA

LEIA COM ATENÇÃO AS INSTRUÇÕES ABAIXO.

1. Verifique se, além deste caderno, você recebeu o Caderno de Respostas, destinado à transcrição das respostas das questões de múltipla escolha (objetivas), das questões discursivas e do questionário de percepção da prova.
2. Confira se este caderno contém as questões discursivas (D) e de múltipla escolha (objetivas), de formação geral e do componente específico da área, e as relativas à sua percepção da prova. As questões estão assim distribuídas:

Partes	Número das questões	Peso das questões no componente	Peso dos componentes no cálculo da nota
Formação Geral/Discursivas	D1 e D2	40%	25%
Formação Geral/Objetivas	1 a 8	60%	
Componente Específico/Discursivas	D3 a D5	15%	75%
Componente Específico/Objetivas	9 a 35	85%	
Questionário de Percepção da Prova	1 a 9	—	—

3. Verifique se a prova está completa e se o seu nome está correto no Caderno de Respostas. Caso contrário, avise imediatamente um dos responsáveis pela aplicação da prova. Você deve assinar o Caderno de Respostas no espaço próprio, com caneta esferográfica de tinta preta.
4. Observe as instruções de marcação das respostas das questões de múltipla escolha (apenas uma resposta por questão), expressas no Caderno de Respostas.
5. Use caneta esferográfica de tinta preta, tanto para marcar as respostas das questões objetivas quanto para escrever as respostas das questões discursivas.
6. Responda cada questão discursiva em, no máximo, 15 linhas. Qualquer texto que ultrapasse o espaço destinado à resposta será desconsiderado.
7. Não use calculadora; não se comunique com os demais estudantes nem troque material com eles; não consulte material bibliográfico, cadernos ou anotações de qualquer espécie.
8. Você terá quatro horas para responder às questões de múltipla escolha e discursivas e ao questionário de percepção da prova.
9. Quando terminar, entregue seu Caderno de Respostas ao responsável pela aplicação da prova.
10. **Atenção!** Você deverá permanecer, no mínimo, por uma hora, na sala de aplicação das provas e só poderá levar este Caderno de Prova após decorridas três horas do início do Exame.

QUESTÃO DISCURSIVA 2

Após mais de um ano de molho, por conta de uma lei estadual que coibia sua realização no Rio de Janeiro, os bailes *funk* estão de volta. Mas a polêmica permanece: os *funkeiros* querem, agora, que o ritmo seja reconhecido como manifestação cultural. Eles sabem que têm pela frente um caminho tortuoso. “Muita gente ainda confunde *funkeiro* com traficante”, lamenta Leonardo Mota, o MC Leonardo. “Justamente porque ele tem cor que não é a branca, tem classe que não é a dominante e tem moradia que não é no asfalto.”

Disponível em: <<http://www.rhbn.com.br>>. Acesso em: 19 ago. 2015 (adaptado).

Todo sistema cultural está sempre em mudança. Entender essa dinâmica é importante para atenuar o choque entre as gerações e evitar comportamentos preconceituosos. Da mesma forma que é fundamental para a humanidade a compreensão das diferenças entre povos de culturas diferentes, é necessário entender as diferenças dentro de um mesmo sistema. Esse é o único procedimento que prepara o homem para enfrentar serenamente este constante e “admirável mundo novo” do povo.

LARAIA, R. B. **Cultura**: um conceito antropológico. Rio de Janeiro: Jorge Zahar, 2008 (adaptado).

Com base nesses excertos, redija um texto dissertativo, posicionando-se a respeito do reconhecimento do *funk* como legítima manifestação artística e cultural da sociedade brasileira. (valor: 10,0 pontos)

RASCUNHO	
1	
2	
3	
4	
5	
6	
7	
8	
9	
10	
11	
12	
13	
14	
15	

QUESTÃO 1

A alfabetização midiática e informacional tem como proposta desenvolver a capacidade dos cidadãos de utilizar mídias, bibliotecas, arquivos e outros provedores de informação como ferramentas para a liberdade de expressão, o pluralismo, o diálogo e a tolerância intercultural, que contribuem para o debate democrático e a boa governança. Nos últimos anos, uma ferramenta de grande valia para o aprendizado, dentro e fora da sala de aula, têm sido os dispositivos móveis. Como principal meio de acesso à internet e, por conseguinte, às redes sociais, o telefone celular tem sido a ferramenta mais importante de utilização social das diferentes mídias, com apropriação de seu uso e significado, sendo, assim, uma das principais formas para o letramento digital da população. Esse letramento desenvolve-se em vários níveis, desde a simples utilização de um aplicativo de conversação com colegas até a utilização em transações financeiras nacionais e internacionais.

WILSON, C. et al. **Alfabetização midiática e informacional**: currículo para formação de professores. Brasília: UNESCO, 2013 (adaptado).

A partir dessas informações, avalie as asserções a seguir e a relação proposta entre elas.

- I. Uma pessoa letrada digitalmente tem capacidade para localizar, filtrar e avaliar informação disponibilizada eletronicamente e para se comunicar com outras pessoas por meio de Tecnologias de Informação e Comunicação.

PORQUE

- II. No letramento digital, desenvolve-se a habilidade de construir sentidos a partir de textos que se conectam a outros textos, por meio de hipertextos, *links* e elementos imagéticos e sonoros.

A respeito dessas asserções, assinale a opção correta.

- A** As asserções I e II são proposições verdadeiras, e a II é uma justificativa correta da I.
- B** As asserções I e II são proposições verdadeiras, mas a II não é uma justificativa correta da I.
- C** A asserção I é uma proposição verdadeira, e a II é uma proposição falsa.
- D** A asserção I é uma proposição falsa, e a II é uma proposição verdadeira.
- E** As asserções I e II são proposições falsas.

QUESTÃO 2

A ideia segundo a qual todo ser humano, sem distinção, merece tratamento digno corresponde a um valor moral. O pluralismo político, por exemplo, pressupõe um valor moral: os seres humanos têm o direito de ter suas opiniões, expressá-las e organizar-se em torno delas. Não se deve, portanto, obrigá-los a silenciar ou a esconder seus pontos de vista; vale dizer, são livres. Na sociedade brasileira, não é permitido agir de forma preconceituosa, presumindo a inferioridade de alguns (em razão de etnia, raça, sexo ou cor), sustentando e promovendo a desigualdade. Trata-se de um consenso mínimo, de um conjunto central de valores, indispensável à sociedade democrática: sem esse conjunto central, cai-se na anomia, entendida como ausência de regras ou como total relativização delas.

BRASIL. **Ética e Cidadania**. Brasília: MEC/SEB, 2007 (adaptado).

Com base nesse fragmento de texto, infere-se que a sociedade moderna e democrática

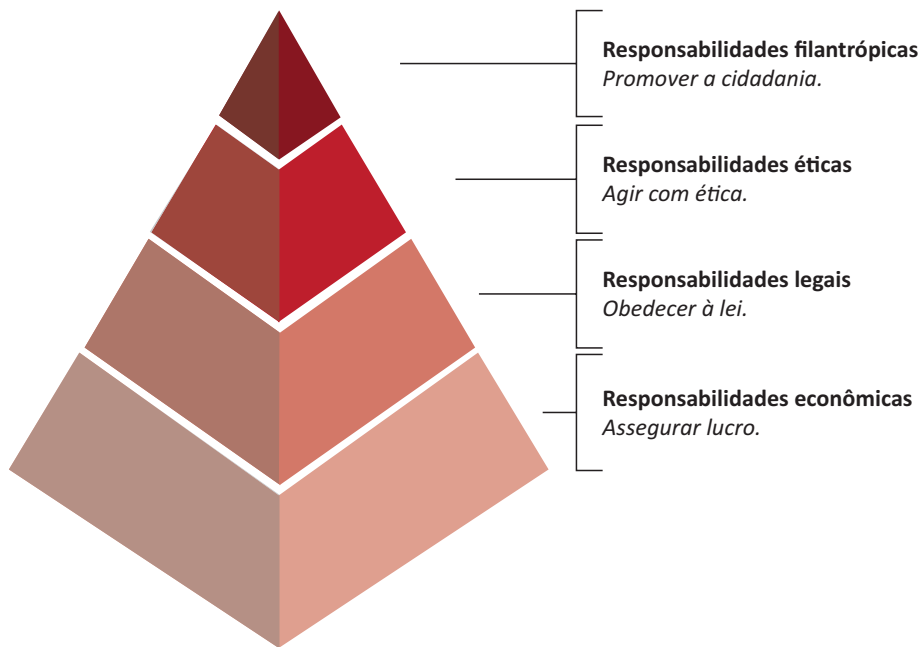
- A** promove a anomia, ao garantir os direitos de minorias étnicas, de raça, de sexo ou de cor.
- B** admite o pluralismo político, que pressupõe a promoção de algumas identidades étnicas em detrimento de outras.
- C** sustenta-se em um conjunto de valores pautados pela isonomia no tratamento dos cidadãos.
- D** apoia-se em preceitos éticos e morais que fundamentam a completa relativização de valores.
- E** adota preceitos éticos e morais incompatíveis com o pluralismo político.

ÁREA LIVRE



QUESTÃO 3

A percepção de parcela do empresariado sobre a necessidade de desenvolvimento sustentável vem gerando uma postura que se contrapõe à cultura centrada na maximização do lucro dos acionistas. A natureza global de algumas questões ambientais e de saúde, o reconhecimento da responsabilidade mundial pelo combate à pobreza, a crescente interdependência financeira e econômica e a crescente dispersão geográfica das cadeias de valor evidenciam que assuntos relevantes para uma empresa do setor privado podem ter alcance muito mais amplo que aqueles restritos à área mais imediata onde se localiza a empresa. Ilustra essa postura empresarial a pirâmide de responsabilidade social corporativa apresentada a seguir.



CARROLL, A. B. The pyramid of corporate social responsibility: toward the moral management of organizational stakeholders. **Business horizons**. July-August, 1991 (adaptado).

Com relação à responsabilidade social corporativa, avalie as afirmações a seguir.

- I. A responsabilidade social pressupõe estudo de impactos potenciais e reais das decisões e atividades da organização, o que exige atenção constante às ações cotidianas regulares de uma organização.
- II. À medida que a responsabilidade econômica de uma organização diminui, a responsabilidade social corporativa aumenta e, por conseguinte, a empresa passa a agir com ética.
- III. A concessão de financiamento para atividades sociais, ambientais e econômicas é fator relevante para a redução da responsabilidade legal empresarial.

É correto o que se afirma em

- A** I, apenas.
- B** II, apenas.
- C** I e III, apenas.
- D** II e III, apenas.
- E** I, II e III.



QUESTÃO 4

Mais de um quarto dos presos do Centro de Detenção Provisória (CDP) de Pinheiros I, na zona oeste da capital paulista, havia morado nas ruas. Há alguns anos, percebe-se progressiva mudança da população carcerária dos CDPs de São Paulo: além da tradicional parcela de acusados e condenados por crimes patrimoniais com emprego de violência ou por tráfico de drogas, passou a integrar o quadro prisional uma parcela da população sem histórico de violência, habitante, majoritariamente, das ruas do centro da cidade. Nos últimos três anos, o número de presos provenientes das ruas da região central da capital paulista aumentou significativamente; a maioria deles é presa pela prática de pequenos furtos e/ou porte de drogas. Os casos são, em geral, similares: pessoas dependentes de *crack* que vivem nas ruas e são flagradas furtando lojas ou tentando roubar transeuntes, sem o uso de armas. Como são crimes leves, os acusados poderiam aguardar a conclusão do inquérito em liberdade.

Disponível em: <<http://ibccrim.jusbrasil.com.br>>. Acesso em: 25 jul. 2015 (adaptado).

Tendo esse texto como referência e considerando a relação entre políticas públicas de segurança e realidade social nas metrópoles brasileiras, avalie as seguintes asserções e a relação proposta entre elas.

- I. A presença de policiais nas ruas das grandes cidades brasileiras atende, em geral, à solicitação de lojistas, que constantemente se queixam da presença de moradores de rua dependentes de *crack*.

PORQUE

- II. O encarceramento de moradores de rua viciados em *crack* que praticam pequenos delitos não resolve os problemas que afetam a população, como os de segurança, violência, saúde, educação e moradia.

A respeito dessas asserções, assinale a opção correta.

- A** As asserções I e II são proposições verdadeiras, e a II é uma justificativa correta da I.
- B** As asserções I e II são proposições verdadeiras, mas a II não é uma justificativa correta da I.
- C** A asserção I é uma proposição verdadeira, e a II é uma proposição falsa.
- D** A asserção I é uma proposição falsa, e a II é uma proposição verdadeira.
- E** As asserções I e II são proposições falsas.

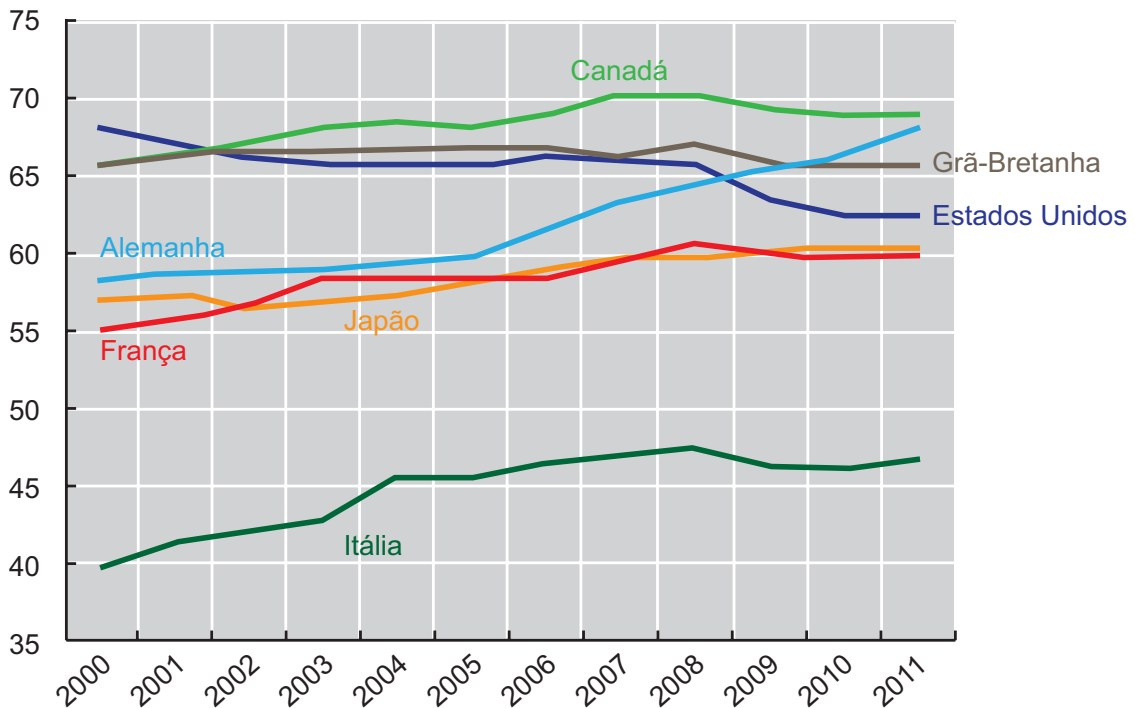
ÁREA LIVRE



QUESTÃO 5

As taxas de emprego para mulheres são afetadas diretamente por ciclos econômicos e por políticas de governo que contemplam a inclusão das mulheres no mercado de trabalho. O gráfico a seguir apresenta variações das taxas percentuais de emprego para mulheres em alguns países, no período de 2000 a 2011.

Taxa percentual de emprego para mulheres de 2000 a 2011



Disponível em: <<http://www.oecd-ilibrary.org>>. Acesso em: 19 ago. 2015 (adaptado).

Com base nesse gráfico, conclui-se que, de 2000 a 2011, a taxa de emprego para mulheres

- A** manteve-se constante na Itália.
- B** manteve-se crescente na França e no Japão.
- C** atingiu, na Grã-Bretanha, seu valor máximo em 2011.
- D** aumentou mais na Alemanha que nos demais países pesquisados.
- E** manteve-se superior a 60% no Canadá, na Alemanha e nos Estados Unidos.

ÁREA LIVRE



QUESTÃO 6

Hoje, o conceito de inclusão digital está intimamente ligado ao de inclusão social. Nesse sentido, o computador é uma ferramenta de construção e aprimoramento de conhecimento que permite acesso à educação e ao trabalho, desenvolvimento pessoal e melhor qualidade de vida.

FERREIRA, J. R. et al. Inclusão Digital. In: BRASIL. **O Futuro da Indústria de Software**: a perspectiva do Brasil. Brasília: MDIC/STI, 2004 (adaptado).

Diante do cenário *high tech* (de alta tecnologia), a inclusão digital faz-se necessária para todos. As situações rotineiras geradas pelo avanço tecnológico produzem fascínio, admiração, euforia e curiosidade em alguns, mas, em outros, provocam sentimento de impotência, ansiedade, medo e insegurança. Algumas pessoas ainda olham para a tecnologia como um mundo complicado e desconhecido. No entanto, conhecer as características da tecnologia e sua linguagem digital é importante para a inclusão na sociedade globalizada.

Nesse contexto, políticas públicas de inclusão digital devem ser norteadas por objetivos que incluam

- I. a inserção no mercado de trabalho e a geração de renda.
- II. o domínio de ferramentas de robótica e de automação.
- III. a melhoria e a facilitação de tarefas cotidianas das pessoas.
- IV. a difusão do conhecimento tecnológico.

É correto apenas o que se afirma em

- A** I e II.
- B** I e IV.
- C** II e III.
- D** I, III e IV.
- E** II, III e IV.

QUESTÃO 7

As projeções da Associação Brasileira da Indústria de Óleos Vegetais vêm indicando, para 2020, produção entre 104 milhões e 105 milhões de toneladas de soja. A área de cultivo da soja deve aumentar cerca de 6,7 milhões de hectares, chegando, em 2023, a 34,4 milhões. Isso representa um acréscimo de 24,3% na área mensurada em 2013. No Paraná, a área de cultivo de soja pode expandir-se para áreas de outras culturas e, no Mato Grosso, para pastagens degradadas e áreas novas.

Disponível em: <<http://www.agricultura.gov.br>>. Acesso em: 19 ago. 2013 (adaptado).

Considerando esses dados e os impactos do agronegócio na reconfiguração do campo, avalie as afirmações a seguir.

- I. A expansão das áreas de monocultura de soja amplia a mecanização no campo e gera a migração de trabalhadores rurais para centros urbanos.
- II. A intensificação da monocultura de soja acarreta aumento da concentração da estrutura fundiária.
- III. A expansão da cultura de soja no Paraná e no Mato Grosso promoverá o avanço do plantio de outras culturas.

É correto o que se afirma em

- A** I, apenas.
- B** III, apenas.
- C** I e II, apenas.
- D** II e III, apenas.
- E** I, II e III.

ÁREA LIVRE



QUESTÃO 8

Disponível em: <<http://www.subsoloart.com>>. Acesso em: 17 jul. 2015.

Assim como o *break*, o grafite é uma forma de apropriação da cidade. Os muros cinzentos e sujos das cidades são cobertos por uma explosão de cores, personagens, linhas, traços, texturas e mensagens diferentes. O sujo e o monótono dão lugar ao colorido, à criatividade e ao protesto. No entanto, a arte de grafitar foi, por muito tempo, duramente combatida, pois era vista como ato de vandalismo e crime contra o patrimônio público ou privado, sofrendo, por causa disso, forte repressão policial. Hoje, essa situação encontra-se bastante amenizada, pois o grafite conseguiu legitimidade como arte e, como tal, tem sido reconhecido tanto por governantes quanto por proprietários de imóveis.

SOUZA, M.L.; RODRIGUES, G.B. *Planejamento urbano e ativismo social*. São Paulo: Unesp, 2004 (adaptado).

Considerando a figura acima e a temática abordada no texto, avalie as afirmações a seguir.

- I. O grafite pode ser considerado uma manifestação artística pautada pelo engajamento social, porque promove a sensibilização da população por meio não só de gravuras e grandes imagens, mas também de letras e mensagens de luta e resistência.
- II. Durante muito tempo, o grafite foi marginalizado como arte, por ser uma manifestação associada a grupos minoritários.
- III. Cada vez mais reconhecido como ação de mudança social nas cidades, o grafite humaniza a paisagem urbana ao transformá-la.

É correto o que se afirma em

- A** II, apenas.
- B** III, apenas.
- C** I e II, apenas.
- D** I e III, apenas.
- E** I, II e III.



QUESTÃO DISCURSIVA 4

Uma empresa desenvolve seu planejamento estratégico para períodos de três anos e utiliza o orçamento anual como ferramenta de planejamento e controle financeiro. A empresa estabeleceu que um órgão de Controladoria em sua estrutura organizacional seria responsável pelo processo orçamentário e de acompanhamento do desempenho empresarial por meio de indicadores econômico-financeiros. Considerando essa situação hipotética, redija um texto dissertativo sobre a importância do orçamento empresarial para a Controladoria. Em sua abordagem, deverão ser contemplados os seguintes aspectos:

- a) o planejamento orçamentário e sua relação com o planejamento estratégico; (valor: 4,0 pontos)
- b) a Controladoria e seu papel no processo orçamentário; (valor: 3,0 pontos)
- c) o orçamento como instrumento para gerar informações financeiras para a tomada de decisão. (valor: 3,0 pontos)

RASCUNHO	
1	
2	
3	
4	
5	
6	
7	
8	
9	
10	
11	
12	
13	
14	
15	



QUESTÃO DISCURSIVA 5

A seguir, são apresentadas as demonstrações contábeis de uma empresa, referentes aos exercícios sociais em 31/12/2014.

BALANÇO PATRIMONIAL — Posição em 31/12/2014			
ATIVO (valores em milhares de R\$)		PASSIVO + Patrimônio Líquido (valores em milhares de R\$)	
Disponível	8 000	Fornecedores	13 000
Valores a Receber de Clientes	7 600	Salários	200
Estoques	4 400	Impostos sobre Vendas	1 000
Ativo Circulante	20 000	Empréstimos Bancários	800
Ativo Não Circulante	4 600	Passivo Circulante	15 000
		Passivo Não Circulante	1 000
		Patrimônio Líquido	8 600
Ativo Total	24 600	Passivo Total + Patrimônio Líquido	24 600

RESULTADO DO EXERCÍCIO – 2014 (valores em milhares de R\$)	
Receita Líquida	167 000
(-) Custo dos Produtos Vendidos	(135 600)
(=) Resultado Bruto	31 400
(-) Despesas Operacionais e Financeiras	(22 500)
(=) Resultado Operacional (antes do Imposto de Renda)	8 900
(-) Imposto de Renda	(3 338)
(=) Resultado Líquido	5 563

INDICADORES ECONÔMICOS E FINANCEIROS	
Capital Circulante Líquido (CCL)	R\$ 5 000 000
Necessidade de Investimento de Giro (NIG)	- R\$ 2 000 000
Saldo de Tesouraria (ST)	R\$ 7 200 000
Retorno sobre Investimento (ROI)	30,16%
Retorno sobre Patrimônio Líquido (RSPL)	83,17%
Grau de Alavancagem Financeira (GAF)	2,7576

Considerando as informações apresentadas, descreva a análise da estrutura financeira e do desempenho econômico dessa empresa, abordando os seguintes aspectos:

- características dos recursos de longo prazo, quanto a sua necessidade e utilização, com interpretação do NIG e do CCL apresentados; (valor: 3,0 pontos)
- segurança financeira da empresa, com base no ST fornecido; (valor: 3,0 pontos)
- efeito do capital de terceiros sobre o patrimônio, com base na comparação entre o ROI e o RSPL, usando o GAF. (valor: 4,0 pontos)



RASCUNHO	
1	
2	
3	
4	
5	
6	
7	
8	
9	
10	
11	
12	
13	
14	
15	



QUESTÃO 9 //

Uma forte alta do dólar ante o real provoca alterações nas previsões para o crescimento econômico, taxa de juros e inflação. Caso a moeda brasileira se desvalorize em relação à moeda americana, a taxa de câmbio beneficiará

- A** o varejo.
- B** o governo.
- C** os exportadores.
- D** os importadores.
- E** o mercado interno.

QUESTÃO 10 //

A política fiscal consiste no equilíbrio entre a arrecadação tributária e os gastos do governo. Na esfera federal, a execução da política fiscal está sob a responsabilidade do Ministério da Fazenda.

Com base na informação apresentada, é correto dizer que uma redução dos gastos públicos

- A** estimula a economia com o aumento do consumo, uma vez que haverá mais transferências do governo para a população.
- B** desestimula a economia por meio de subsídios aos empresários e dos investimentos em infraestrutura.
- C** acelera os investimentos privados e cria um ciclo virtuoso na economia por meio da geração de empregos e renda.
- D** desacelera a economia, reduz a demanda agregada e contribui para o controle da inflação.
- E** beneficia os empresários, pois viabiliza os investimentos e estimula a economia.

QUESTÃO 11 //

Na análise do desempenho empresarial, os indicadores de lucratividade das vendas são utilizados para medir a eficiência de uma empresa em produzir lucros por meio de suas vendas. Por exemplo, uma margem operacional de 20% revela que 80% das receitas de vendas foram utilizadas para cobrir os custos e despesas operacionais.

ASSAF NETO, A. LIMA, F. G. **Fundamentos de administração financeira**. 2 ed. São Paulo: Atlas, 2014 (adaptado).

Considerando o exposto, analise os seguintes dados do resultado operacional da empresa comercial WB.

Demonstração de Resultados do Exercício — Ano X1

Receita Líquida de Vendas	50 000
Custo da Mercadoria Vendida	17 000
Lucro Bruto	33 000
Despesas com Vendas	7 000
Despesas Financeiras	1 000
Despesas Administrativas	10 000
Lucro Operacional	15 000

A margem operacional obtida pela empresa WB ao final do ano X1 é de

- A** 15%.
- B** 20%.
- C** 25%.
- D** 30%.
- E** 40%.

ÁREA LIVRE //

QUESTÃO 13

As debêntures são títulos emitidos por companhias de capital aberto e geralmente destinados ao financiamento de projetos de investimentos de longo prazo. Sua forma de rentabilidade é semelhante aos Certificados de Depósitos Bancários, em que o tomador de recursos promete pagar ao investidor o capital investido, acrescido de juros remuneratórios, pagos em datas preestabelecidas.

Considerando as principais características das debêntures, avalie as afirmações a seguir.

- I. A normatização e a fiscalização das debêntures são realizadas pelo Banco Central do Brasil.
- II. As garantias das debêntures têm diferentes formas, conforme previsão expressa na escritura de emissão desses títulos.
- III. Os juros estão entre os direitos e as remunerações obtidas pelas debêntures.
- IV. A forma de resgate de uma debênture é única, ou seja, só pode ser efetuada no vencimento do título.

É correto apenas o que se afirma em

- A** I e II.
- B** I e IV.
- C** II e III.
- D** I, III e IV.
- E** II, III e IV.

ÁREA LIVRE

QUESTÃO 14

Considerando que os indicadores de atividade são utilizados na análise financeira de uma organização e servem para medir a rapidez da conversão de várias contas em vendas ou caixa, analise os seguintes resultados, obtidos pela empresa NC, em março de 2015:

- Prazo Médio de Recebimento de Vendas: 70 dias;
- Prazo Médio de Renovação de Estoques: 40 dias;
- Prazo Médio de Pagamento de Compras: 30 dias.

Pelos valores apresentados, conclui-se que o ciclo operacional e financeiro da empresa NC é, respectivamente, de

- A** 70 dias e 110 dias.
- B** 70 dias e 100 dias.
- C** 80 dias e 100 dias.
- D** 80 dias e 60 dias.
- E** 110 dias e 80 dias.

ÁREA LIVRE



QUESTÃO 15

Uma empresa apresentou o Balanço Patrimonial a seguir, para dois anos subsequentes. São ferramentas de análise financeira a Análise Vertical (AV), que demonstra a participação de cada conta no total do ativo ou passivo, e a Análise Horizontal (AH), que demonstra a variação de cada conta, considerando-se um ano base.

Balanço Patrimonial													
Ativo	Ano 1			Ano 2			Passivo	Ano 1			Ano 2		
	R\$	% AV	% AH	R\$	% AV	% AH		R\$	% AV	% AH	R\$	% AV	% AH
Circulante	30	30	100	40	40	133	Circulante	50	50	100	40	40	80
Não Circulante	70	70	100	60	60	86	Não Circulante	40	40	100	35	35	87
							Patrimônio Líquido	10	10	100	25	25	250
Total Ativo	100	100	100	100	100	100	Total Passivo	100	100	100	100	100	100

Com base no Balanço Patrimonial da empresa, avalie as afirmações a seguir.

- I. O Capital Circulante Líquido aumentou no ano 2, em comparação com o ano 1.
- II. A participação do Capital Próprio aumentou no ano 2, em comparação com o ano 1.
- III. O Capital de Terceiros aumentou no ano 2, em comparação com o ano 1.
- IV. Os Bens e Direitos realizáveis no curto prazo aumentaram no ano 2, em comparação com o ano 1.

É correto apenas o que se afirma em

- A I e IV.
- B II e III.
- C III e IV.
- D I, II e III.
- E I, II e IV.

QUESTÃO 16

As empresas podem ser avaliadas financeiramente por intermédio de alguns índices como, por exemplo, o Índice de Liquidez Geral (LG), que indica a capacidade de pagamento no longo prazo.

HOJI, M. **Administração financeira e orçamentária**: matemática financeira aplicada, estratégias financeiras, orçamento de capital. 9 ed. São Paulo: Atlas, 2010 (adaptado).

Sobre o Índice LG, mencionado no texto, assinale a opção correta.

- A A empresa terá facilidade em saldar seus compromissos de longo prazo, quando esse índice for menor que um.
- B O ativo circulante composto por bens de baixa liquidez não compromete a análise favorável do resultado apurado por esse índice.
- C O cumprimento das obrigações de curto prazo não será comprometido, ainda que os diversos valores correntes de diferentes datas se misturem.
- D A empresa terá facilidade em saldar seus compromissos de longo prazo, quando esse índice for maior que um, desde que a empresa não apresente problemas financeiros no curto prazo.
- E O fato do ativo realizável a longo prazo ser composto por direitos concentrados em poucos credores não compromete a capacidade da empresa em saldar seus compromissos de longo prazo.



QUESTÃO 17 //

A seguir são apresentados os demonstrativos de resultados de dois anos consecutivos de uma empresa.

	Ano 1	Ano 2
Receita Líquida	80 000	100 000
Custo do Produto Vendido	36 000	50 000
Lucro Bruto	44 000	50 000
Despesas Operacionais	26 000	23 000
Lucro Operacional	18 000	27 000
Despesas Financeiras	10 000	9 000
Lucro Antes do IR/CS	8 000	18 000
IR/CS	2 000	4 500
Lucro Líquido	6 000	13 500

Ano 2 em relação ao Ano 1

Varição da Receita Líquida	25%
Varição do Lucro Operacional	50%
Varição do Lucro Líquido	125%

Com base nos números apresentados nas tabelas, verifica-se que o grau de alavancagem financeira da empresa é igual a

- A** 5,00.
- B** 2,50.
- C** 2,00.
- D** 0,60.
- E** 0,40.

ÁREA LIVRE //**QUESTÃO 18** //

Uma empresa efetuou três depósitos mensais de R\$ 20 000,00 em uma aplicação que remunera em juros compostos a uma taxa de 10% ao mês. Considerando que

$$\text{Fórmula: Montante} = \text{prestação} * \left[\frac{(1 + i)^n - 1}{i} \right]$$

$$\text{Fator: } \left[\frac{(1 + i)^n - 1}{i} \right] (n = 3, i = 10\%) = 3,31$$

Ao final do período, o valor do montante da série de pagamentos é igual a

- A** R\$ 60 000,00.
- B** R\$ 64 300,00.
- C** R\$ 65 000,00.
- D** R\$ 66 200,00.
- E** R\$ 70 000,00.

ÁREA LIVRE //

QUESTÃO 19

O gerente financeiro de uma empresa de serviços analisou as opções de investimento A e B, apresentadas na tabela a seguir, sobre um capital de R\$ 100 000,00 no período de três anos. Em ambas as opções, os juros são capitalizados anualmente à taxa de 10% ao ano, segundo regimes de capitalização diferentes.

Ano	Investimento A (capitalização simples)			Investimento B (capitalização composta)		
	Saldo Inicial (R\$)	Juros 10% a.a. (R\$)	Saldo Final (R\$)	Saldo Inicial (R\$)	Juros 10% a.a. (R\$)	Saldo Final (R\$)
1	100 000,00	10 000,00	110 000,00	100 000,00	10 000,00	110 000,00
2	110 000,00	10 000,00	120 000,00	110 000,00	11 000,00	121 000,00
3	120 000,00	10 000,00	130 000,00	121 000,00	12 100,00	133 100,00

Com base na análise dos dados apresentados, conclui-se que

- A** o investimento A gerou para a empresa o valor de R\$ 30 000,00, o que corresponde à apuração de juros sobre juros, ao final do período de três anos.
- B** o investimento B é mais atrativo, porque os juros são calculados de forma linear e incidem sobre o capital inicial investido pela empresa.
- C** o investimento B é mais atrativo, porque os juros são calculados sobre o montante, o qual inclui os juros do período anterior.
- D** o investimento A é menos atrativo, porque os juros aumentam a cada período de forma exponencial.
- E** o investimento A gera para a empresa montante inferior ao investimento B, ao final de cada ano.

QUESTÃO 20

Um cidadão procurou um banco para contratar financiamento de um imóvel cujo valor é de R\$ 450 mil, utilizando o Sistema de Amortização Constante (SAC). O Custo Efetivo Total (CET) da operação realizada é de 10% ao ano. Sendo o financiamento em 100 parcelas, o valor da amortização mensal seria igual a

- A** R\$ 4 000,00.
- B** R\$ 4 500,00.
- C** R\$ 4 950,00.
- D** R\$ 5 200,00.
- E** R\$ 5 500,00.

ÁREA LIVRE

QUESTÃO 21

Uma empresa comercial realizou uma análise de viabilidade econômico-financeira para a abertura de uma filial com investimento inicial de R\$ 60 000,00; estando dispostas, na tabela a seguir, as informações consideradas na análise, dada uma Taxa Mínima de Atratividade (TMA) de 10% ao ano.

	Ano 1 (R\$)	Ano 2 (R\$)	Ano 3 (R\$)
Receita Líquida	183 600	100 300	71 400
Custo da Mercadoria Vendida	(75 600)	(41 300)	(29 400)
Lucro Bruto	108 000	59 000	42 000
Despesas Operacionais	(26 000)	(27 000)	(28 000)
Lucro Operacional	82 000	32 000	14 000
Despesas Financeiras	(10 000)	(8 000)	(6 000)
Lucro Antes do IRPJ	72 000	24 000	8 000
IRPJ	(18 000)	(6 000)	(2 000)
Lucro Líquido	54 000	18 000	6 000

Valor Presente Líquido (VPL) = 8,475

Taxa Interna de Retorno (TIR) = 21,5%

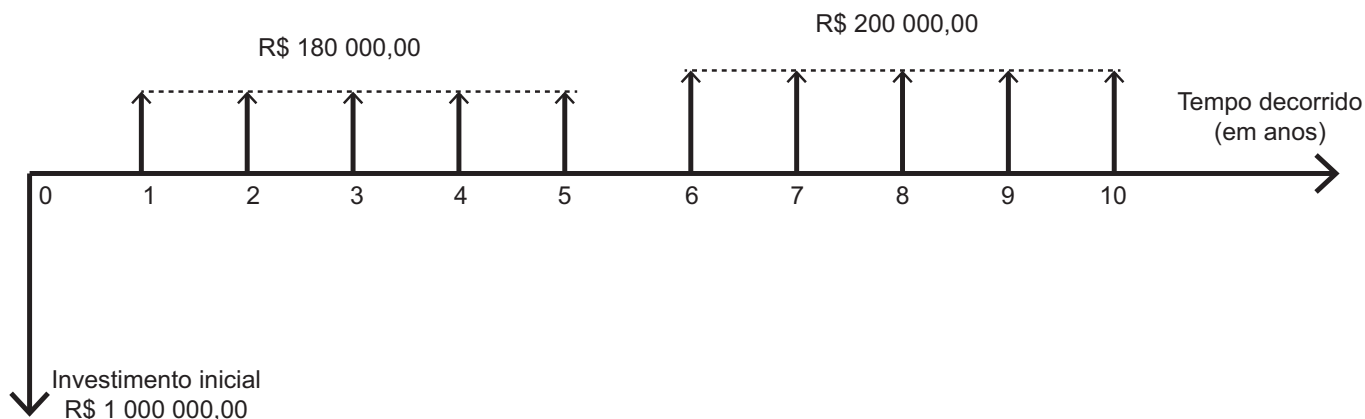
Com base no cenário proposto, verifica-se que o investimento

- A** é viável, porque o VPL é positivo.
- B** não é viável, visto que a TIR é maior do que a TMA.
- C** é viável, já que o Custo da Mercadoria Vendida é decrescente.
- D** não é viável, visto que a Receita Líquida apresenta resultados decrescentes.
- E** não é viável, uma vez que o Lucro Líquido apresenta resultados decrescentes.

ÁREA LIVRE

QUESTÃO 22

Uma indústria de autopeças tem apresentado preços pouco atrativos, o que tem acarretado perda de clientes para suas concorrentes. Para reverter esse quadro e aumentar sua participação no mercado, a empresa pretende investir em um projeto de reestruturação de sua linha de produção, com a aquisição de novos equipamentos que resultariam em ganhos de produtividade e redução dos custos. Assim, a reestruturação tornaria seus produtos mais competitivos (com projeções de retornos maiores), conforme análise elaborada pelo departamento de estudos econômicos. Sendo de 10 anos a vida útil do projeto, o investimento necessário é de R\$1 000 000,00; os retornos estimados são apresentados no fluxo de caixa a seguir.



A decisão para a empresa investir no projeto deve ocorrer somente se o prazo de retorno do investimento, calculado pelo método do *Payback* Simples, for inferior a seis anos.

Com base nas informações fornecidas, conclui-se que o projeto deve ser

- A** rejeitado, pois o retorno calculado supera seis anos.
- B** rejeitado, pois o retorno calculado ocorrerá em seis anos.
- C** aceito, pois o retorno calculado ocorrerá ao final de seis anos.
- D** aceito, pois o retorno calculado ocorrerá em cinco anos e seis meses.
- E** aceito, pois o retorno calculado ocorrerá em cinco anos e cinco meses.

ÁREA LIVRE

QUESTÃO 23

Após estudos realizados pelo departamento de custos de uma empresa, detectou-se que o ponto de equilíbrio de um produto é de 1 000 unidades vendidas por mês. A tabela apresentada a seguir evidencia tal resultado.

Demonstração do lucro através do ponto de equilíbrio contábil	
CONTA	TOTAL (R\$)
Vendas (1 000 unidades vendidas a R\$ 8,00 cada uma)	8 000,00
(-) Custos Variáveis (1 000 unidades a R\$ 2,00 cada uma)	2 000,00
(-) Despesas Variáveis (1 000 unidades a R\$ 1,00 cada uma)	1 000,00
(=) Margem de Contribuição	5 000,00
(-) Custos e Despesas Fixas para o período	5 000,00
(=) Lucro Operacional	0

Diante da necessidade de alavancar seus resultados econômicos, a empresa pretende comprar um novo equipamento para melhorar a qualidade de fabricação do referido produto. Entretanto, a aquisição desse novo equipamento provocará aumento no preço de venda unitário para R\$ 10,00; nos custos fixos, para R\$ 7 000,00; nos custos variáveis por unidade, para R\$ 2,50; nas despesas variáveis, para R\$ 1,50; e ainda se deseja auferir um lucro de R\$ 2 000,00.

A partir das alterações provocadas pela aquisição do novo equipamento, para atingir seu ponto de equilíbrio econômico, a empresa deverá vender quantas unidades do produto?

- A** 1 000.
- B** 1 200.
- C** 1 400.
- D** 1 500.
- E** 1 800.

QUESTÃO 24

Determinada empresa coletou, para a formação do preço de venda de seu único produto, as seguintes informações:

Custo por unidade produzida	R\$ 120,00
Tributos incidentes sobre as vendas (ICMS, PIS, COFINS, IPI)	29,65%
Despesas com vendas	3,00%
Despesas administrativas	2,35%
Margem de lucro desejado	25,00%

A partir das informações apresentadas, conclui-se que o preço de venda à vista a ser praticado pela empresa deve ser de

- A** R\$ 200,00.
- B** R\$ 300,00.
- C** R\$ 320,00.
- D** R\$ 340,00.
- E** R\$ 360,00.



QUESTÃO 25

Uma empresa planeja, para o próximo exercício, um incremento nas vendas na ordem de 30%. A empresa almeja que, a partir da situação atual, esse incremento nas receitas de vendas produza, ainda, um aumento no seu resultado operacional. A empresa busca estrategicamente maximizar o seu lucro operacional e, para tanto, propõe uma alteração de sua estrutura de custos. A situação proposta contempla a troca de parte de seus custos operacionais variáveis por custos operacionais fixos.

A equipe de custos da empresa realizou estudos acerca da situação atual e da situação proposta, tendo obtido as seguintes projeções a partir do aumento de 30% nas vendas:

**DEMONSTRAÇÃO DE RESULTADO
(ESTRUTURA DE CUSTOS ATUAL)**

		Projeção — aumento de 30% nas vendas
VENDAS	R\$ 200 000	R\$ 260 000
(-) Custo Variável (40%)	R\$ 80 000	R\$ 104 000
(-) Custo Operacional Fixo	R\$ 80 000	R\$ 80 000
Lucro Operacional	R\$ 40 000	R\$ 76 000

**DEMONSTRAÇÃO DE RESULTADO
(ESTRUTURA DE CUSTOS ALTERADA)**

		Projeção — aumento de 30% nas vendas
VENDAS	R\$ 200 000	R\$ 260 000
(-) Custo Variável (30%)	R\$ 60 000	R\$ 78 000
(-) Custo Operacional Fixo	R\$ 100 000	R\$ 100 000
Lucro Operacional	R\$ 40 000	R\$ 82 000

Considerando as informações apresentadas, os Graus de Alavancagem Operacional (GAO) para a estrutura de custos atual e para a estrutura de custos alterada são, respectivamente, de

- A** 3 e 3,5.
B 3 e 4.
C 3,5 e 2,5.
D 3,5 e 4.
E 4 e 4,5.

ÁREA LIVRE



QUESTÃO 26

Uma empresa de comercialização de doces pretende adotar um controle de custos. Sabe-se que o Método de Custeio por Absorção e o Método de Custeio Variável são os indicados para tais necessidades.

A tabela a seguir resume as informações necessárias para as decisões a serem tomadas.

Preço de Venda por unidade	R\$ 10,00
Custos Variáveis de produção por unidade	R\$ 2,00
Custos Fixos por mês	R\$ 50 000,00
Despesas Variáveis por unidade vendida	R\$ 2,00
Volume Mensal de Produção	50 000 unidades
Volume Mensal de Vendas	30 000 unidades

Nesse caso, o lucro mensal da empresa, calculado pelo Método de Custeio por Absorção e pelo Método de Custeio Variável, é igual, respectivamente, a

- A R\$ 100 000,00 e R\$ 180 000,00.
- B R\$ 150 000,00 e R\$ 130 000,00.
- C R\$ 210 000,00 e R\$ 240 000,00.
- D R\$ 240 000,00 e R\$ 220 000,00.
- E R\$ 244 000,00 e R\$ 234 000,00.

ÁREA LIVRE

QUESTÃO 27

Uma empresa, cujo Balanço Patrimonial está demonstrado na tabela a seguir, está participando de um processo licitatório para a prestação de determinado serviço. Uma das condições previstas no edital de licitação diz respeito ao endividamento de curto prazo das empresas licitantes, que não pode ser maior que 50%.

Balanço Patrimonial					
Ativo	R\$	% AV	Passivo	R\$	% AV
Circulante	60	30	Circulante	80	40
Não Circulante	140	70	Não Circulante	100	50
			Patrimônio Líquido	20	10
Total Ativo	200	100	Total Passivo	200	100

AV: Análise Vertical

Considerando o Balanço Patrimonial dessa empresa, observa-se que ela atende ao requisito do referido edital, porque apresenta endividamento de curto prazo de

- A 10%.
- B 20%.
- C 30%.
- D 40%.
- E 50%.

ÁREA LIVRE



QUESTÃO 28 //

A parcela do capital emitido pelas companhias ou sociedades anônimas é denominada de ações. O mercado de ações é dividido em dois setores: o mercado primário e o mercado secundário. É muito importante a distinção entre esses dois setores para que haja o fluxo do financiamento.

ASSAF NETO, A. **Mercado Financeiro**. São Paulo: Atlas, 2011 (adaptado).

Tendo como referência o exposto, avalie as afirmações a seguir.

- I. Mercado primário é todo ativo financeiro colocado à venda, pela primeira vez, por meio de oferta pública.
- II. Os valores monetários praticados pelo mercado secundário são transferidos para o financiamento da empresa, o que confere maior liquidez para as ações emitidas.
- III. Todos os acionistas têm o direito de participar dos dividendos, desde que haja o apuro de lucros.
- IV. Os detentores das ações preferenciais possuem vantagens, entre elas o direito de voto, bem como o de candidatar-se a cargos em órgão de administração ou conselho fiscal.

É correto apenas o que se afirma em

- A** II.
- B** I e III.
- C** I, II e IV.
- D** I, III e IV.
- E** II, III e IV.

ÁREA LIVRE //**QUESTÃO 29** //

Um instituto especializado em governança corporativa suspendeu do quadro de associados, por 12 meses, uma empresa que opera no mercado acionário, devido a dúvidas relacionadas aos mecanismos de controle interno da companhia após denúncias de fraudes contábeis. O instituto identificou evidências de que a empresa não adotava mecanismos efetivos para monitorar o padrão de conduta ética estabelecido em suas políticas, tais como controles independentes e passíveis de supervisão pelo conselho de administração.

Considerando a situação hipotética apresentada, avalie as afirmações a seguir, sob o ponto de vista da governança corporativa.

- I. A questão ética afeta a credibilidade da empresa, mas não impacta as relações comerciais e econômicas dela.
- II. Verifica-se a falta de alinhamento dos interesses dos administradores e dos acionistas, o chamado conflito de agência.
- III. A situação evidencia a necessidade de melhorar a transparência de informações aos investidores como forma de proteção de seus interesses.
- IV. Coloca-se em dúvida a adoção, pela empresa, de mecanismos de proteção dos investidores contra perdas decorrentes de fraudes.

É correto apenas o que se afirma em

- A** I.
- B** II.
- C** IV.
- D** I e III.
- E** II, III e IV.



QUESTÃO 30

O conceito de desenvolvimento sustentável está associado a progresso, crescimento econômico e avanço científico com a preservação do meio ambiente. Dessa forma, vários procedimentos podem ser adotados por pessoas, governos e empresas para não prejudicar a fauna, a flora e os recursos naturais disponíveis em nosso planeta. Só assim, garantiremos um tipo de desenvolvimento que é de extrema importância para a sociedade: aquele que mantém condições ambientais favoráveis para as futuras gerações.

Com base nessas informações, assinale a opção em que a proposição apresentada está de acordo com os princípios do desenvolvimento sustentável.

- A** O reaproveitamento do lixo reciclável contribui para a preservação do meio ambiente e gera renda para os trabalhadores, o que favorece o fluxo de caixa das empresas.
- B** O reflorestamento é uma atividade econômica ambientalmente responsável e, dada a sua natureza, gera saídas de recursos do caixa da empresa.
- C** O lançamento de água poluída na natureza é passível de multas, o que resulta em dificuldades de caixa para a empresa.
- D** O reúso da água gera economia para as indústrias sem que haja saídas financeiras do caixa da empresa.
- E** O uso consciente dos recursos naturais garante o equilíbrio financeiro das empresas.

ÁREA LIVRE

QUESTÃO 31

Entendendo a importância do planejamento financeiro para o melhor desempenho empresarial, uma empresa realizou uma reunião para revisar o planejamento do terceiro trimestre. Na reunião, o diretor de Marketing informou que a projeção de vendas para julho, agosto e setembro era respectivamente de R\$ 100 000,00, R\$ 120 000,00 e R\$ 200 000,00. Esclareceu que 50% das vendas são realizadas a vista e as demais a prazo, sendo metade para 30 dias e a outra parte para 60 dias. O diretor financeiro informou que, nos meses de maio e junho, a empresa realizou vendas de R\$ 160 000,00 e R\$ 140 000,00 e que há recebimentos acerca de outros rendimentos no valor de R\$ 2 000 por mês.

Para dar continuidade ao planejamento financeiro, é necessário conhecer o total de recebimentos do período. Com base nas informações dadas na reunião, conclui-se que os recebimentos totais projetados para os meses de julho, agosto e setembro foram respectivamente, de

- A** R\$ 52 000,00; R\$ 87 000,00 e R\$ 157 000,00.
- B** R\$ 115 000,00; R\$ 97 500,00 e R\$ 155 000,00.
- C** R\$ 117 000,00; R\$ 99 500,00 e R\$ 157 000,00.
- D** R\$ 125 000,00; R\$ 100 000,00 e R\$ 155 000,00.
- E** R\$ 127 000,00; R\$ 122 000,00 e R\$ 157 000,00.

ÁREA LIVRE



QUESTÃO 32

Observe a tabela a seguir.

Indicador Serasa Experian de Inadimplência das Empresas — Variação Mensal					
Mês	PEFIN (1)	REFIN (2)	Protestos	CCF (3)	Geral
jan/15	+8,2%	+0,2%	+37,6%	+5,7%	+13,5%
fev/15	+3,6%	-0,8%	-29,7%	-10,7%	-9,5%
mar/15	+2,7%	+3,5%	+29,5%	+20,6%	+11,9%
abr/15	-0,5%	+2,2%	-18,0%	-7,1%	-5,8%
mai/15	-0,7%	+0,9%	+13,8%	+3,3%	+3,7%

(1) Fluxo mensal de anotações de dívidas junto às financeiras, cartões de crédito e empresas não financeiras

(2) Fluxo mensal de anotações de dívidas em atraso junto aos bancos

(3) Fluxo mensal de cheques devolvidos por insuficiência de fundos (2ª devolução)

+ : aumento de inadimplência

- : redução de inadimplência

Disponível em: <<http://noticias.serasaexperian.com.br>>. Acesso em: 15 jul. 2015 (adaptado).

A partir dessa tabela, conclui-se que a variação mensal do índice de inadimplência

- A** foi positiva em 13,5%, no tocante à inadimplência geral, no mês de janeiro de 2015, o que representa crescimento na capacidade de pagamento das empresas.
- B** foi mais acentuada em cheques devolvidos no mês de abril de 2015, o que representa redução da capacidade de pagamento das empresas.
- C** foi mais favorável para a economia no mês de fevereiro de 2015, o que representa crescimento da capacidade de pagamento das empresas.
- D** foi alavancada pelas dívidas junto às financeiras, cartões de crédito e empresas não financeiras no mês de maio de 2015.
- E** foi desfavorável para as financeiras, cartões de crédito e empresas não financeiras no mês de março de 2015 .

ÁREA LIVRE



QUESTÃO 33

O fluxo de caixa é o instrumento que permite à pessoa de finanças planejar, organizar, coordenar, dirigir e controlar os recursos financeiros de sua empresa para determinado período.

Considerando o exposto acima, analise o cenário do orçamento de caixa da Empresa XZ, apresentado a seguir.

	Projetado — valores em R\$		
	Outubro	Novembro	Dezembro
Recebimentos totais	210	320	340
Menos: desembolsos totais	213	418	305
Fluxo líquido de caixa	(3)	(98)	35
Mais: saldo inicial de caixa	50	47	(51)
Saldo final de caixa	47	(51)	(16)
Menos: saldo de caixa mínimo	25	25	25
Financiamento total necessário			
Saldo excedente de caixa			

GITMAN, L. *Administração financeira*. 12 ed. São Paulo: Pearson, 2012 (adaptado).

Tendo em vista o gerenciamento do orçamento de caixa da Empresa XZ é possível dizer, no que se refere aos excedentes e necessidades de financiamento, que

- A** haverá excedente nos meses de outubro e novembro, respectivamente de R\$ 22,00 e R\$ 26,00; e financiamento de R\$ 9,00 no mês de dezembro.
- B** haverá excedente de caixa de R\$ 22,00 em outubro e necessidade de financiamento de R\$ 26,00 em novembro e de R\$ 9,00 no mês de dezembro.
- C** nem haverá necessidade de financiamento, nem ocorrerá excedente de caixa, pois, de um mês para o outro, é possível cobrir os déficits de caixa.
- D** nem haverá necessidade de financiamento, nem ocorrerá excedente de caixa em nenhum dos meses, pois as contas estão auferidas de forma exata.
- E** haverá excedente de caixa de R\$ 22,00 no mês de outubro, necessidade de financiamento de R\$ 76,00 no mês de novembro e necessidade de financiamento de R\$ 41,00 no mês de dezembro.

ÁREA LIVRE



QUESTÃO 34

Combater desperdícios, alocar recursos adequadamente e conseguir associar objetivos e resultados a seus determinantes são alguns dos benefícios gerados pela decisão de iniciar um orçamento base zero.

Considerando o exposto, avalie as asserções a seguir e a relação proposta entre elas.

- I. O orçamento base zero rompe com o passado, nunca partindo da observação de dados anteriores, uma vez que estes podem conter ineficiências que o orçamento de tendência poderá perpetuar.

PORQUE

- II. A proposta do orçamento base zero está em rediscutir a empresa como um todo, toda vez que for elaborado o orçamento.

A respeito dessas asserções, assinale a opção correta.

- A** As asserções I e II são proposições verdadeiras, e a II é uma justificativa correta da I.
- B** As asserções I e II são proposições verdadeiras, mas a II não é uma justificativa correta da I.
- C** A asserção I é uma proposição verdadeira, e a II é uma proposição falsa.
- D** A asserção I é uma proposição falsa, e a II é uma proposição verdadeira.
- E** As asserções I e II são proposições falsas.

ÁREA LIVRE



QUESTÃO 35

O departamento de controladoria de uma empresa definiu um conjunto de indicadores para o acompanhamento e controle do planejamento. Dessa forma, apresenta-se o seguinte painel de controle:

	Projetado	Realizado	Variação (%)
Volume de Vendas	11 000 peças	10 000 peças	-9,1%
Receita Líquida	R\$ 154 000,00	R\$ 160 000,00	3,9%
Preço Médio de Venda	R\$ 14,00 por unidade	R\$ 16,00 por unidade	14,3%
EBITDA	R\$ 30 800,00	R\$ 28 800,00	-6,5%

EBITDA --> earnings before interests, taxes, depreciation and amortization (lucro antes dos juros, impostos, depreciação e amortização).

Com base no painel de controle da empresa, avalie as afirmações a seguir.

- I. A variação de -9,1% no volume de vendas indica que a empresa não foi eficaz.
- II. A variação de 3,9% na receita líquida evidencia que a empresa foi eficaz no cumprimento das metas do volume de vendas.
- III. A variação de -6,5% do EBITDA não representa um problema na execução do planejamento, dada a variação positiva da receita líquida.

É correto o que se afirma em

- A** I, apenas.
- B** II, apenas.
- C** I e III, apenas.
- D** II e III, apenas.
- E** I, II e III.

ÁREA LIVRE



QUESTIONÁRIO DE PERCEPÇÃO DA PROVA

As questões abaixo visam levantar sua opinião sobre a qualidade e a adequação da prova que você acabou de realizar.
Assinale as alternativas correspondentes à sua opinião nos espaços apropriados do Caderno de Respostas.

QUESTÃO 1

Qual o grau de dificuldade desta prova na parte de Formação Geral?

- A Muito fácil.
- B Fácil.
- C Médio.
- D Difícil.
- E Muito difícil.

QUESTÃO 2

Qual o grau de dificuldade desta prova na parte de Componente Específico?

- A Muito fácil.
- B Fácil.
- C Médio.
- D Difícil.
- E Muito difícil.

QUESTÃO 3

Considerando a extensão da prova, em relação ao tempo total, você considera que a prova foi

- A muito longa.
- B longa.
- C adequada.
- D curta.
- E muito curta.

QUESTÃO 4

Os enunciados das questões da prova na parte de Formação Geral estavam claros e objetivos?

- A Sim, todos.
- B Sim, a maioria.
- C Apenas cerca da metade.
- D Poucos.
- E Não, nenhum.

QUESTÃO 5

Os enunciados das questões da prova na parte de Componente Específico estavam claros e objetivos?

- A Sim, todos.
- B Sim, a maioria.
- C Apenas cerca da metade.
- D Poucos.
- E Não, nenhum.

QUESTÃO 6

As informações/instruções fornecidas para a resolução das questões foram suficientes para resolvê-las?

- A Sim, até excessivas.
- B Sim, em todas elas.
- C Sim, na maioria delas.
- D Sim, somente em algumas.
- E Não, em nenhuma delas.

QUESTÃO 7

Você se deparou com alguma dificuldade ao responder à prova. Qual?

- A Desconhecimento do conteúdo.
- B Forma diferente de abordagem do conteúdo.
- C Espaço insuficiente para responder às questões.
- D Falta de motivação para fazer a prova.
- E Não tive qualquer tipo de dificuldade para responder à prova.

QUESTÃO 8

Considerando apenas as questões objetivas da prova, você percebeu que

- A não estudou ainda a maioria desses conteúdos.
- B estudou alguns desses conteúdos, mas não os aprendeu.
- C estudou a maioria desses conteúdos, mas não os aprendeu.
- D estudou e aprendeu muitos desses conteúdos.
- E estudou e aprendeu todos esses conteúdos.

QUESTÃO 9

Qual foi o tempo gasto por você para concluir a prova?

- A Menos de uma hora.
- B Entre uma e duas horas.
- C Entre duas e três horas.
- D Entre três e quatro horas.
- E Quatro horas, e não consegui terminar.



ENADE 2015

EXAME NACIONAL DE DESEMPENHO DOS ESTUDANTES



ENADE 2015

EXAME NACIONAL DE DESEMPENHO DOS ESTUDANTES

INEP

**Ministério
da Educação**



* R 2 2 2 0 1 5 3 2 *